

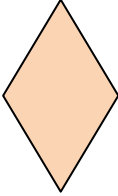


### LOS PARALELOGRAMOS.

- **Paralelogramos.** Tienen sus lados paralelos dos a dos y los ángulos opuestos iguales.
  - **Cuadrado.** Lados iguales. Ángulos iguales. Diagonales iguales y perpendiculares.
  - **Rombo.** Lados iguales. Ángulos iguales dos a dos. Diagonales desiguales y perpendiculares.
  - **Rectángulo.** Lados iguales dos a dos. Ángulos iguales. Diagonales iguales y oblicuas.
  - **Romboide.** Lados iguales dos a dos. Ángulos iguales dos a dos. Diagonales desiguales y oblicuas.

PARALELOGRAMOS	Lados iguales.	Lados iguales dos a dos.
Ángulos iguales.	CUADRADO 	RECTÁNGULO 
Ángulos iguales dos a dos.	ROMBO 	ROMBOIDE 