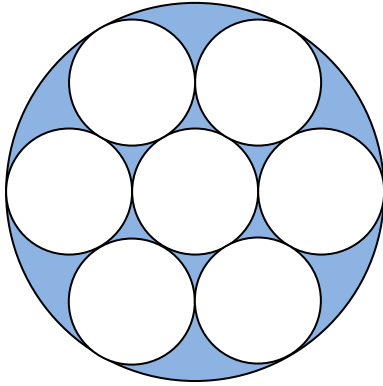
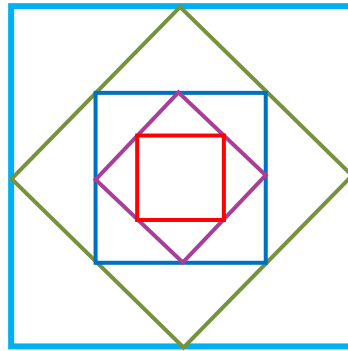


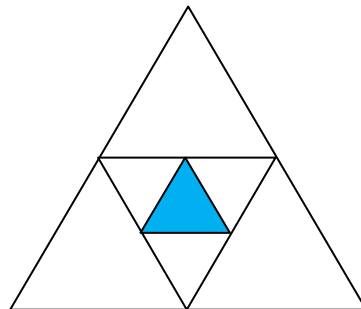
Si el diámetro de cada círculo blanco es 1 cm, ¿cuál es el área de la zona coloreada?




Sabiendo que el lado del cuadrado azul exterior mide 8 dm, ¿qué superficie ocupa el cuadrado rojo?



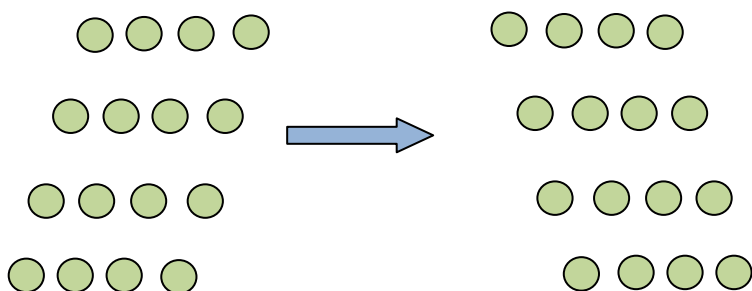
¿Qué fracción del triángulo grande representa el triángulo azul?



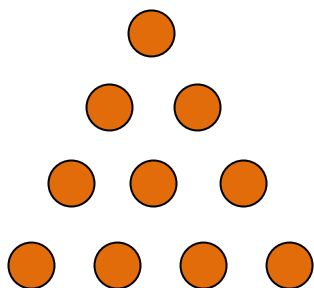
Sin levantar el lápiz del papel y sin repasar ninguna línea, ¿serías capaz de copiar el dibujo?



¿Cuál es el menor número de movimientos que se deben realizar para invertir la figura? (las fichas se mueven de una en una)



Con el menor número de movimientos, haz que el triángulo que forman estas fichas quede hacia abajo.



¿Sabrías escribir una fórmula que nos diera el área de esta figura?

